



뛰어서 세어 볼까요

이름:

공부한 날:


월

일

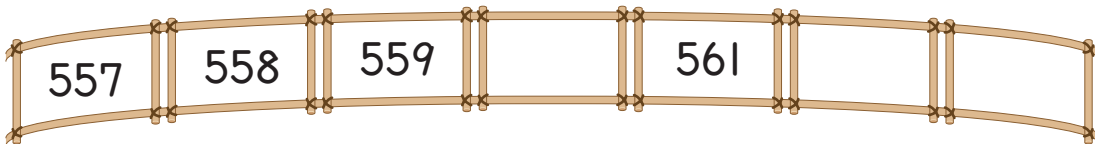
1 100씩 뛰어서 세어 보세요.



2 10씩 뛰어서 세어 보세요.



3 1씩 뛰어서 세어 보세요.



4 560부터 10씩 뛰어 세면서 선으로 이어 보세요.




5 빈칸에 알맞은 수를 써넣으세요.

696 — 697 — 698 — — —

→ 씩 뛰어서 세었습니다.

6 515부터 10씩 뛰어서 셀 때 빈 카드에 알맞은 수를 써넣으세요.



7 예준이와 예술이가 나누는 이야기를 읽고 물음에 답하세요.

예준: 난 300에서 출발하여 10씩 뛰어서 세었어.

예술: 난 900에서 출발하여 100씩 거꾸로 뛰어서 세었어.

- 예준이의 방법으로 뛰어서 세어 보세요.

300 — — — — —

- 예술이의 방법으로 뛰어서 세어 보세요.

900 — — — — —